

沙坪镇中心校 2023 年秋季学期期末综合练习卷

三年级 数学

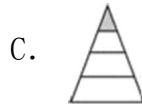

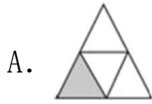
(时间: 90 分钟 满分: 100 分)

学校: _____ 姓名: _____ 班级: _____ 座位号: _____

题号	一	二	三	四	五	六	总分
得分							

一、选择题。(将正确答案的序号填在括号里)(10 分)

1. 下面图形中涂色部分不能用 $\frac{1}{4}$ 表示的是 ()。



2. 5 千克铁和 5000 克棉花比较 ()。

- A. 铁重 B. 棉花重 C. 一样重 D. 无法确定

3. 下面的图形中, () 是轴对称图形。



4. 一只空杯重 200 克, 装满水后连杯 1 千克, 倒出半杯水后, 连杯重 () 克。

- A. 400 B. 600 C. 800

5. 右图中, 甲的周长和乙的周长相比 ()。



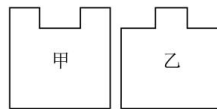
- A. 甲长 B. 乙长 C. 相等 D. 无法确定

二、判断题。(对的画“√” 错的画“×”)(5 分)

6. 一篇文章有 900 多字。张叔叔每分钟打 90~100 个字, 9 分钟可以打完这篇文章。
()

7. $629 \div \square$, 要使商是两位数, \square 里最小填 6。 ()

8. 右面两图中, 图甲的周长等于图乙的周长。 ()



9. 施工队修路, 第一天修 2 米, 以后每一天修的路都是前一天的 2 倍, 计划修 126 米, 那么修完需要 5 天。 ()

10. 把一个西瓜分成 9 份, 小明吃了其中的 2 份是这个西瓜的 $\frac{2}{9}$ 。 ()

三、填空题。(19分)

11. 124×3 的积是 () 位数; 125×8 的积的末尾有 () 个 0。

12. 在括号里填上合适的单位。



10 ()

120 ()

50 ()

13. $\square \div 3 = 31 \cdots \triangle$, \triangle 最大是 (), 这时 \square 是 ()。

14. 下面是一个长方形, 长和宽如图所示。在这个长方形中剪出一个最大的正方形, 这个正方形的边长是 () 厘米, 剩下的图形的周长是 () 厘米。



15. 下面运动, 是平移画“→”, 是旋转的画“○”。



()

()

()

16. 在 \bigcirc 里填“>”“<”或“=”。


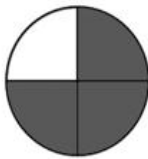
$505 \div 5 \bigcirc 475 \div 5$

$7 \times 602 \bigcirc 620 \times 7$

$\frac{1}{3} \bigcirc \frac{1}{8}$

6000 克 - 2000 克 \bigcirc 4 千克

17. 用分数表示涂色部分。



$\frac{(\quad)}{(\quad)}$

$\frac{(\quad)}{(\quad)}$

18. 三年级儿童标准体重的千克数是“周岁数 $\times 2 + 8$ ”。三(1)班的赵青同学今年 8 岁, 他的标准体重应是 () 千克。

四、计算题。(10+16=26分)

19. 直接写得数。

(1) $6 \times 500 =$ (2) $350 \div 7 =$ (3) $200 + 4 =$ (4) $0 \div 110 =$ (5) $\frac{3}{7} + \frac{2}{7} =$
(6) $48 \div 4 =$ (7) $600 \div 3 =$ (8) $3 \times 21 =$ (9) $35 \times 4 =$ (10) $\frac{7}{9} - \frac{5}{9} =$

20. 列竖式计算。(带*的要验算)

(1) $4 \times 285 =$ (2) $607 \times 5 =$ (3) $*387 \div 9 =$

(4) $255 \div 5 =$ (5) $360 \times 8 =$ (6) $*580 \div 4 =$

五、操作题。(6+3+6=15分)

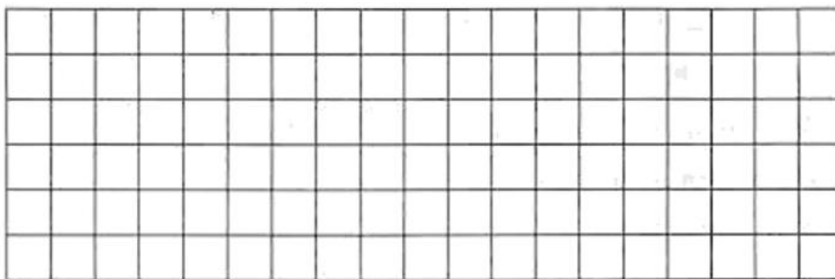
21. 连一连。

$235 \div 4$ $465 \div 3$ $159 \div 7$ $372 \div 2$ $682 \div 6$ $384 \div 4$

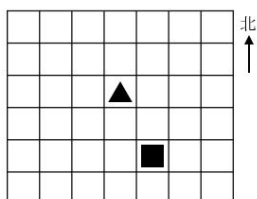
商是三位数

商是两位数

22. 在图中画一个周长是 20 厘米的长方形。(每个小方格的边长表示 1 厘米)



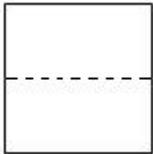
23. (1) 先把▲向南平移 2 格, 再向东平移 3 格。
(2) 先把■向西平移 3 格, 再向北平移 2 格。



六、解决问题。(25分)

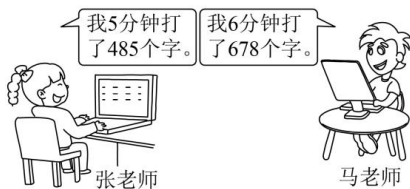
24. 运动场的看台有8个区,每个区有140个座位,每人坐一个座位,则运动场可以坐多少人?

25. 有两个长方形,长都是8厘米,宽都是4厘米。用它们拼成一个正方形(如下图)。拼成的正方形周长是多少?



26. 奶奶买来一块花布给妞妞做衣服,用这块花布的 $\frac{3}{8}$ 做了一件上衣, $\frac{4}{8}$ 做了一条裙子。做上衣和做裙子一共用去这块花布的几分之几?

27. 哪位老师打字打得更快?



28. 学校蔬果基地收获了9筐土豆,连筐共重350千克,每个筐子重5千克,共收获土豆多少千克?